

社 会 (45分)

1

中学生の明日香さんたちは、第二次世界大戦後の我が国のあゆみについてまとめようと思い、60歳の定年で2008年3月に退職する予定の校長先生にインタビューを行い、校長先生が生きてきた時代について語ってもらった。その内容を記した次の文章を読んで、①～⑧に答えなさい。



私が生まれたのは1947年です。この年は出生率が急に高まったベビーブームの始まりの年で、その後1949年ごろまでに生まれた世代は「団塊の世代」といわれています。私はその「団塊の世代」の一人なんですよ。

当時は第二次世界大戦が終わって間もないところで、平和な国際社会を築くために設立された<sup>(a)</sup>国際連合が活動を始めていました。我が国はというと、アメリカを中心とする連合国軍総司令部(GHQ)の指令のもとで民主化が進められていました。我が国が<sup>(b)</sup>独立(主権)を回復したのは、私が5歳のときです。

戦後すぐはどの家も生活が苦しかったようですが、やがて景気が上向き始めました。私が中学生になったころから日本は急速に経済成長をとげ、父の収入も増えたおかげで、<sup>(c)</sup>電気洗たく機やテレビを買うことができました。私は、そのテレビで東京オリンピックの中継を見たことをよく覚えています。

一方、1960年代になると公害が大きな社会問題になり、公害に関する<sup>(d)</sup>裁判が新聞などで取り上げられました。また私が先生として勤め始めたころに石油危機が起こり、日用品の値段もどんどん上がりました。

そういえば、石油危機からしばらく後になりますが、1989年に消費税が新しい<sup>(e)</sup>税として導入されたときも、何だか商品の値段が急に上がったように感じました。その後1990年代になると、バブル経済が崩壊し、<sup>(f)</sup>景気が悪くなっていきました。そのため社会や経済のしくみなどの見直しが必要になり、その中で<sup>(g)</sup>行政改革が一層進められました。2007年10月に日本郵政公社が民営化され、日本郵政グループが営業を開始しましたが、これもその改革の一つです。

私はこの3月に定年で退職しますが、私が就職したころと比べると、仕事だけではなく、<sup>(h)</sup>さまざまな面で社会のしくみや様子などが大きく変わっています。そのように変化する社会の中にあっても、みなさんは中学校で学んだことを生かして、力強く生きていってほしいと思います。

① 下線部(a)に関して、(ア)、(イ)に答えなさい。

(ア) 次の条文は、1948年に国際連合の総会で採択された決議の一部である。この決議を何といますか。

第一条 すべての人間は、生まれながらにして自由であり、かつ、尊厳と権利とについて平等である。

第六条 すべての人は、いかなる場所においても、法の下において、人として認められる権利を有する。

(イ) 国際連合のしくみやはたらきに関する説明として適当でないのは、(1)～(4)のうちではどれですか。

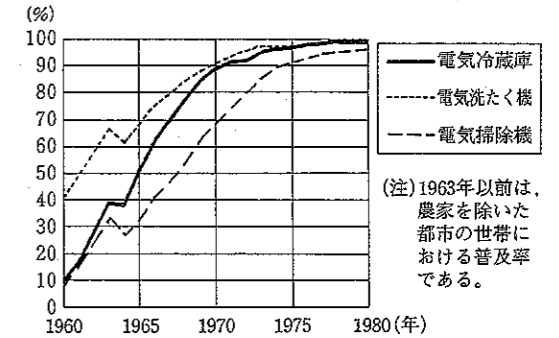
- (1) 総会では、すべての加盟国が1票の投票権をもっている。
- (2) 安全保障理事会の決議は、常任理事国が拒否権を行使した場合でも多数決で成立する。
- (3) 主要機関の一つに、経済社会理事会がある。
- (4) 平和をおびやかす侵略行為に対して、軍事的措置をとることができる。

② 下線部(b)に関して、我が国は、1951年にアメリカなど48か国との間に講和条約を結んだが、この条約を何といますか。

③ 下線部(c)に関して、右の図を見ると、我が国では、1960年代に主要な耐久消費財が急速に普及していることがわかる。その普及が、女性の生活に与えた影響について、次の二つのことばのいずれかを用いて、解答用紙の書き出しに続けて書きなさい。

職場                      余暇

我が国における主要な耐久消費財の普及率(全世帯)



(注) 1963年以前は、農家を除いた都市の世帯における普及率である。  
〔消費動向調査 平成16年3月普及率(3月調査) 内閣府ホームページ統計情報・調査結果から作成〕

④ 下線部(d)に関して、我が国の司法制度について、(ア)、(イ)に答えなさい。

- (ア) 裁判所の判決に不服がある場合、上級の裁判所に控訴や上告ができるが、こうしたしくみを何といますか。
- (イ) 近年、司法制度改革が進められており、その一つとして、重大な刑事事件について、国民の中から選任された人が、裁判官といっしょに審理や評議・評決などを行う制度が2009年5月までに始まることになっている。この制度を何といますか。

⑤ 下線部(e)に関して、我が国の税について述べた文として適当でないのは、(1)～(4)のうちではどれですか。

- (1) 所得税には、所得が多い人ほど税率を高くする方法がとられている。
- (2) 酒税やたばこ税は直接税であり、購入した人が税を負担する。
- (3) 間接税は、税を納める人と実際に税を負担する人が異なっている。
- (4) 日本国憲法は、国民は納税の義務を負うと定めている。

⑥ 下線部(f)に関して、景気が悪い場合、消費が低迷して、継続的に物価が下落することがあるが、このような状態を何といますか。

⑦ 下線部(g)に関して、我が国では、バスやタクシーの運賃の決定などにおいて見られるように、自由な競争を進めることなどを目的として、行政機関がもっている許認可権を見直しているが、この考え方や動きを何といますか。

⑧ 下線部(h)に関して、これからの社会には、障害の有無、年齢、性別などを問わず、すべての人が安心して利用しやすい生活環境をあらかじめデザインする考え方が求められている。右の図は、この考え方を広めるために作成されたパンフレットの一部分である。この考え方を何といますか。



視点                      便利さ

ドアのレバーハンドル

特徴                      レバーを押し下げるだけで簡単にドアを開けられる。手をケガしている人や握力の弱い人、荷物を抱えている人でも楽。

2 次の①～④に答えなさい。

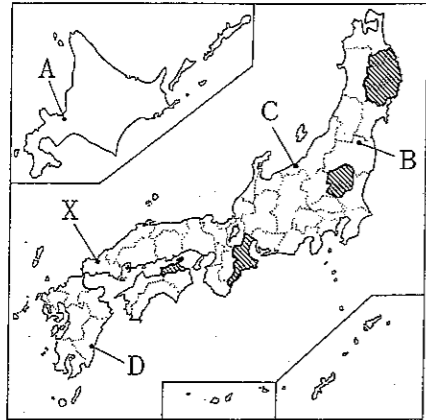


図1

① 図1の略地図中のXは萩市を示している。図2の萩市に関する地形図を見て、(ア)～(ウ)に答えなさい。

(ア) 図2中の(あ)～(え)は、図2中の道路上に設定した経路である。右のメモは、図2中の(あ)～(え)のいずれかの経路について、図2から読みとることができる特徴を記したものである。このメモの表す経路として最も適当なのは、(あ)～(え)のうちのどれですか。ただし、それぞれの経路は●を出発地点、矢印の先端を到着地点とする。

(イ) 図2中の「たまえ」駅から「はぎ」駅までの直線距離を5cmとして計算すると、この直線距離は実際には何mになりますか。

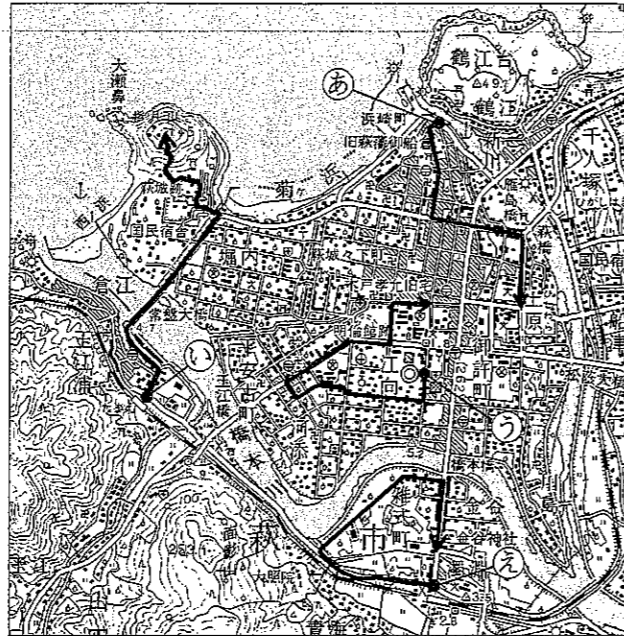
(ウ) 図2中の萩橋がかかっている川と橋本川にはさまれた地域の地形として最も適当なのは、(1)～(4)のうちではどれですか。

- (1) 三角州 (2) リアス式海岸 (3) 扇状地 (4) さんご礁

② 図1の略地図中のA～Dの都市は、右の表1中の(1)～(4)の都市のいずれかであり、表1は、(1)～(4)の都市のそれぞれの1月と7月の月降水量と月平均気温を示している。図1中のCの都市は、表1中の(1)～(4)のうちのどれですか。

③ 図1の略地図中の(ア)～(エ)で示した四つの県は、右の表2中のa～dの県のいずれかであり、表2は、a～dのそれぞれの県のさまざまな統計数値を示している。表2中のbの県の県庁所在地の都市名を書きなさい。

④ 次の写真は、我が国の領土の最南端に位置する沖ノ鳥島である。我が国は、この島の水没を防ぐために護岸工事を行い、領土と経済水域(排他的経済水域)を確保したが、経済水域(排他的経済水域)の確保が重要である理由を説明しなさい。



(国土地理院発行5万分の1地形図「萩」より)

図2

メモ	
・	出発地点と到着地点の標高差がほとんどない。
・	郵便局のそばを通る。
・	出発地点から見て、到着地点は北の方向にある。

表1

都市	月降水量 (mm)		月平均気温 (°C)	
	1月	7月	1月	7月
(1)	43.8	144.8	1.4	23.5
(2)	110.7	67.2	-4.1	20.5
(3)	71.8	303.9	7.6	26.8
(4)	413.3	206.9	2.2	24.5

(「理科年表 平成19年」から作成)

表2

県	人口 (千人, 2005年)	人口密度 (人/km <sup>2</sup> , 2006年)	輸送用機械出荷額 (億円, 2005年)	養殖漁業漁獲量 (トン, 2005年)
a	1009	538	1834	41016
b	1873	324	25533	34145
c	2015	314	16974	1286
d	1375	90	4263	66772

(「データでみる県勢 2008年版」から作成)

3

次の図1の略地図を見て、①～⑥に答えなさい。ただし、北海道、本州、四国、九州とその周辺の島は示していない。なお、緯線と経線はいずれも15度間隔である。

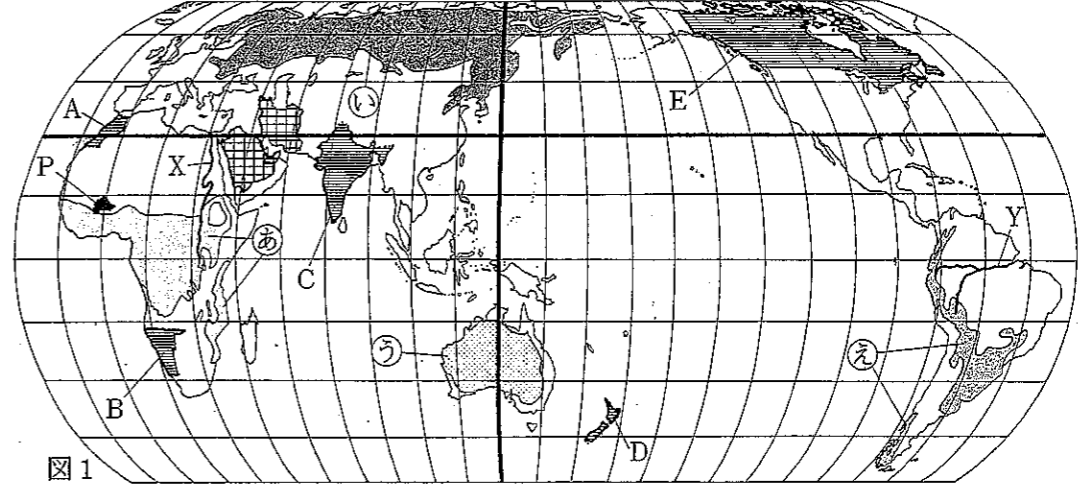


図1

① 右の図2の略地図は、北海道、本州、四国、九州とその周辺の島を示している。図2中のア～エは緯線または経線を示しており、いずれも15度間隔である。また、図1中の太線で示した緯線と経線は、図2中のア～エのいずれかと同じ緯度または経度を表している。次の文中の [a], [b] に当てはまるのは、それぞれ図2中のア～エのうちのどれですか。

図1中の太線で示した緯線と同じ緯度を表しているのは、[a] であり、図1中の太線で示した経線と同じ経度を表しているのは、[b] である。

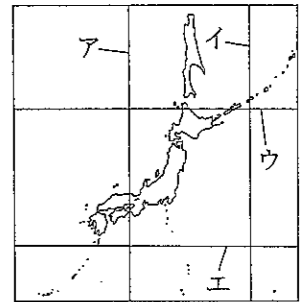


図2

(注) 図1と図2は、図法と縮尺が異なる。

② 地球の表面には三つの大きな海洋があるが、図1中の(ア)～(エ)で示したA～Eのうちの3か国が共通して面している海洋を何といいますか。

③ 世界の気候を、熱帯、乾燥帯、温帯、冷帯(亜寒帯)、寒帯に区分したとき、我が国の京都が属する気候帯と同じ気候帯を表しているのは、図1中の(あ)～(え)で示している気候帯のうちではどれですか。

④ 図1中のXはナイル川、Yはアマゾン川を示している。これらの川と比べて、我が国の川は、国土が山がちであることから、どのような特徴があるか。簡潔に書きなさい。

⑤ 図1中の(イ)～(ロ)は、サウジアラビア、アラブ首長国連邦、イランを示している。これらの3か国は、我が国が、主にエネルギーとして用いている資源の2005年における輸入量上位3か国である。この資源名を書きなさい。

⑥ 右の写真は、図1中のPの国の北西部で撮影されたものである。この地域について述べた次の文中の [ ] に当てはまることばを書きなさい。

降水量が少ないこの地域では、人口増加により燃料や食料の需要が増え、土地が植物の生育に適さなくなるほど木の伐採や放牧が行われるなどしたために、[ ] といわれる現象が進み、深刻な環境問題となっている。



4 次の図は、中学生の直樹さんが夏休みの自由研究で、我が国の「人々の食と生活」を調べ、いくつかの時代についてまとめたカードの一部である。これを見て、①～⑥に答えなさい。

① 下線部(a)に関して、次の写真のような土器を使って行われるようになった調理の方法のうちで主なものを書きなさい。



② 下線部(b)に関して、(ア)、(イ)に答えなさい。

(ア) 収穫した稲をたくわえた、次の写真のようなつくりの倉庫を何といいますか。



(イ) 稲作が広まった影響について述べた次の文中の□に最もよく当てはまることばを書きなさい。

水田や用水などをめぐる争いが起こり、やがて有力なむらは周囲のむらをしたがえて□とよばれる政治的まとまりが各地にできた。

③ 下線部(c)に関して、奈良につくられたこの都を何といいますか。

④ 下線部(d)に関して、この時代には産業や交通が発達し、運送業者が活躍したが、陸上でさまざまな物資を運んだ運送業者を何といいますか。

⑤ 図中の□(e)に最もよく当てはまる、食用とする以外に農作物の肥料として加工された魚の名前を書きなさい。

⑥ 下線部(f)に関して、明治時代のはじめごろ、東京などを中心に、西洋の文化や生活様式がさかんに取り入れられたが、このことを何というか。漢字四字で書きなさい。

○	時代	人々の食と生活
	縄文	(a) 土器がつけられ、新たな方法で調理が行われるようになった。

○	時代	人々の食と生活
	弥生	(b) 大陸から伝わった稲作が広まっていった。

○	時代	人々の食と生活
	奈良	(c) 都に住む貴族は、多くの食材を使った食事をとっていた。

○	時代	人々の食と生活
	室町	(d) 運送業者が、年貢をはじめ食材などの物資を運んだ。

○	時代	人々の食と生活
	江戸	網が改良され、九十九里浜では大規模な□(e)漁が行われた。

○	時代	人々の食と生活
	明治	(f) 西洋の文化が取り入れられ、牛なべや洋服などが流行した。

5 次の文章は、拓也さんと美穂さんが、我が国の貨幣について書かれた本を見ながら交わした会話である。これを読んで、①～⑥に答えなさい。

拓也：このページにのっている貨幣は、教科書で見たことがあるよ。

美穂：これは□(a)という貨幣ね。中国の唐にならって708年に発行されて、都とその周辺では実際に使われたらしいわよ。それ以前に、我が国最古の貨幣といわれる富本銭よほんせんが発行されたと習ったわ。

拓也：その後もさまざまな貨幣がつくられているね。

美穂：でも平安時代の後半にはつくられなくなったと書いてあるわ。その後、(b)宋との貿易で貨幣が輸入されて、使われるようになったのね。

拓也：宋以外の(c)中国の王朝でつくられて輸入された貨幣ものっているよ。そういえば鎌倉時代や室町時代には、地方でも輸入銭が使われていたと聞いたことがある。

美穂：でも江戸時代になると、幕府がつくった貨幣が各地で使用されるようになるのね。

拓也：そうした貨幣は、鎖国下の貿易でも用いられたようだよ。

美穂：たしか、(d)幕末に欧米諸国と通商条約を結んで貿易が始まると、金の流出を防ぐために貨幣をつくり直したと習ったわ。

拓也：明治時代以降の紙幣ものっているよ。これらは明治政府によって設立された日本銀行によって、(e)発行された紙幣だけど、いろいろな紙幣があるね。

美穂：(f)記念硬貨も出ているわ。私、「沖縄復帰20周年記念硬貨」を持っているの。私が生まれた年に発行された硬貨で、父がプレゼントしてくれたものよ。これからも大事にするわ。

① 文章中の□(a)に当てはまる貨幣の名前を書きなさい。

② 武士として政治の実権をにぎった平清盛は、下線部(b)によって利益をあげるために港を整備したが、この港を何といいますか。

③ 下線部(c)に関して、多くの王朝が建てられた中国と我が国に関係するできごと(1)～(4)を、年代の古いものから順に並ぶように番号で答えなさい。

- (1) 中国に王朝を建てたフビライは、九州北部を攻めた。
- (2) 中国から帰国した雪舟せつしゅうは、日本的な水墨画を完成させた。
- (3) 中国から帰国した最澄さいしょうは、天台宗を広めた。
- (4) 中国の征服を目的に、豊臣秀吉が朝鮮を侵略した。

④ 下線部(d)に関して、幕末の我が国と欧米諸国との貿易について述べた次の文中の□に最もよく当てはまる輸出品名を書きなさい。

我が国には綿織物や毛織物などが輸入され、我が国からは主に□や茶が輸出された。

⑤ 下線部(e)に関して、現在、日本銀行は、中央銀行として我が国の紙幣を発行できる唯一の銀行であるが、このような役割がある銀行を何といいますか。

⑥ 下線部(f)に関して、右の図は、我が国のある機関の開設100年を記念して発行された記念硬貨を表したものである。この機関が開設される以前のできごとに当てはまるのは、(1)～(4)のうちではどれですか。

- (1) 我が国は、江華島事件の後、日朝修好条規を結んだ。
- (2) 我が国は、中国に出兵し、義和団と戦った。
- (3) 我が国は、世界恐慌(世界大恐慌)の影響などで深刻な不況にみまわれた。
- (4) 我が国では、シベリア出兵の決定により米価が一層値上がりし、米騒動が起きた。



社 (1)

受検 番号	(算用数字)	志願校	
----------	--------	-----	--

# 解答用紙

※
---

1

① (ア)       ① (イ)

②

③ 女性の家事の負担が

④ (ア)       ④ (イ)  制度

⑤       ⑥

⑦       ⑧

2

① (ア)       ① (イ)  m      ① (ウ)

②

③  市

④

3

① a       ① b       ②

③       ④

⑤       ⑥

4

①

② (ア)       ② (イ)

③       ④

⑤       ⑥

5

①       ②

③  → → →      ④

⑤  銀行      ⑥