

社 会 (45分)

1 次の略地図を見て、①～④に答えなさい。なお、略地図中の経線は等間隔であり、海上部のみ描かれている。

① 略地図中の地点Aについて

(1), (2)に答えなさい。

(1) 世界の気候を、熱帯、乾燥帯、温帯、冷帯(亜寒帯)、寒帯に区分したとき、地点Aは温帯に属している。地点B～Eのうち、温帯に属しているのはどれですか。一つ答えなさい。

(2) 地点Aの位置を次のように表すとき、に当てはまる経度として最も適当なのは、ア～エのうちではどれですか。一つ答えなさい。

北緯30度、の位置にある。

ア 東経90度 イ 東経135度 ウ 西経90度 エ 西経135度

② 略地図中のXとYは山脈の一部を示している。XとYを含む造山帯を何といますか。

③ 動物の毛でつくった衣類を着て、帽子をかぶっている右の写真の人は、略地図中のあで示される地域でくらしている。この地域での人々のくらしの特徴として適当でないのは、ア～エのうちではどれですか。一つ答えなさい。

- ア ジャガイモを栽培している。
イ 家畜としてリャマを飼っている。
ウ 山の斜面を利用して生活している。
エ おもな住居は高床(式)になっている。



④ 略地図中のブルネイについて、(1), (2)に答えなさい。

(1) ブルネイは、東南アジアの国々で構成されている国際組織の一員である。経済などの分野で協力体制を整えているこの国際組織を何といますか。

(2) ブルネイは原油輸出国である。原油の国際価格の変動が、ブルネイの輸出総額(全輸出品目の合計金額)に影響すると予想して、その予想を裏付けるために次の三つの資料を用意するとき、に当てはまることばとして最も適当なのは、ア～エのうちではどれですか。一つ答えなさい。

- 1 原油の国際価格の推移を示す資料
2 ブルネイの輸出総額の推移を示す資料
3 の推移を示す資料

- ア ブルネイの輸入品目に占める自動車の割合 イ ブルネイから原油を輸入する国の数
ウ ブルネイの輸出総額に占める原油の割合 エ ブルネイの総人口

2

中学生の高志さんは、職業調べで近所のスーパーマーケットを訪問し、市場経済のしくみや新しい働き方などについて学んだ。次は、店長へのインタビューの一部である。

①～⑤に答えなさい。

高志：店内には多くの商品がありますが、陳列にどのような工夫をしていますか。

店長：(a) 節分、ひな祭り、端午の節句など季節の行事に合わせた商品を、店の出入り口付近に陳列して売り上げを伸ばすようにしています。

高志：陳列にそのような工夫があるんですね。では、商品の価格はどのようにして決めるのですか。

店長：(b) 商品によって異なりますが、(c) 野菜などは入荷量によって価格が変わりますね。

高志：確かに野菜は季節によってずいぶん変わるのでしょね。最後にお店の経営についてうかがいたいのですが、どのようなことを大切にされていますか。

店長：最も大切にしているのは、お客様を第一に考えることです。また、(d) 取引先と良い関係を築いたり、店の資金調達や、(e) 従業員の労働環境を守ったりすることも大切なことですね。

高志：店長として、さまざまなことに配慮されているんですね。

① 下線部(a)のように、毎年同じ季節や同じ日に行われる行事を何といますか。

② 下線部(b)に関連して、商品によっては市場で独占や寡占が進み、消費者が不当な高価格で商品を購入させられることがある。それを防ぎ、自由な競争をうながすための法律とその運用に当たる機関の組み合わせとして正しいのは、ア～エのうちではどれですか。一つ答えなさい。

ア 法律：製造物責任法、機関：公正取引委員会 イ 法律：独占禁止法、機関：公正取引委員会
ウ 法律：製造物責任法、機関：経済社会理事会 エ 法律：独占禁止法、機関：経済社会理事会

③ 次は、高志さんが下線部(c)に関連して作成した資料とその資料の考察である。資料の考察の(A)～(D)に当てはまる語句を、ア～エからそれぞれ一つ選びなさい。

しゅんぎくの月別の平均価格・入荷量(2014年)

単位：平均価格(円/kg)、入荷量(kg)

月	平均価格	入荷量	月	平均価格	入荷量
1月	720	56 171	7月	656	9 148
2月	583	45 777	8月	1 320	5 134
3月	508	34 439	9月	1 013	18 106
4月	591	17 983	10月	490	40 719
5月	557	12 356	11月	488	51 289
6月	648	8 780	12月	919	54 781


(東京都中央卸売市場 Web ページから作成)

しゅんぎくは秋から冬にかけて旬をむかえる野菜である。8月に価格が上昇しているのは(A)が(B)したため、10月から価格が下落しているのは(A)が(C)したためと考えられる。なお、11月に比べて12月の価格が上昇しているのは、しゅんぎくが旬をむかえたため、(A)とともに(D)も(C)したためと予想できる。

ア 需要量 イ 供給量 ウ 増加 エ 減少

④ 下線部(d)に関連して、生産された商品が、卸売業者やスーパーマーケットなどの小売業者を経て、消費者に届くまでの過程のことを何というか。漢字二字で書きなさい。

⑤ 右は、高志さんがスーパーマーケットの従業員の休憩室で見つけた下線部(e)に関連するシンボルマークである。店長からは、仕事の時間を短縮して早く家庭に帰ることなどにより、私生活を充実させ、仕事と生活をうまく調和させることをめざす考え方を表したものと説明があった。このような考え方をカタカナで何といますか。



(内閣府 Web ページから作成)

3

中学生の優太さんは、我が国で選挙権年齢が引き下げられたことを知り、選挙や政治について関心をもった。次は、社会科の調べ学習について、優太さんが同じ班の直子さん、大地さんに行った会話の一部である。①～④に答えなさい。

優太：法律が改正されて、私たちが高校生の時に選挙で投票することがあるかもしれないね。そこで、選挙と政治について調べたいことを提案するよ。
 直子：(a)いい提案だわ。賛成よ。選挙権年齢が引き下げられたのは70年ぶりらしいし、(b)歴史的な視点からも調べてみる必要があると思うわ。
 大地：そうだね。これを機会に、(c)国民の政治参加について調べたり、選挙で投票する意義についても考えてみたいわ。
 優太：それでは、「責任ある一票のために選挙と政治について考える」をテーマに調べ学習を進めよう。
 直子、大地：賛成。

① 優太さんは、下線部(a)に関連して、国会議員の選挙や国会の役割について調べた。(1)、(2)に答えなさい。

(1) 優太さんは右の表を作成し、次のように説明した。(A)には当てはまることばを漢字二字で、(B)には当てはまることばを漢字四字で書きなさい。

右の表からは、参議院の選挙が3年ごとに行われているのに対して、衆議院の選挙は不規則に行われていることがわかります。これは、衆議院には参議院にない(A)制度があることが大きく影響しています。参議院議員の選挙は、原則として都道府県を単位とした選挙区制と、全国を一つの単位とした(B)制に分けて行われます。

衆議院	参議院
2000年	2001年
2003年	2004年
2005年	2007年
2009年	2010年
2012年	2013年
2014年	

(2) 国会のしくみやはたらきについてまとめた文として適当なのは、ア～エのうちではどれですか。当てはまるものをすべて答えなさい。

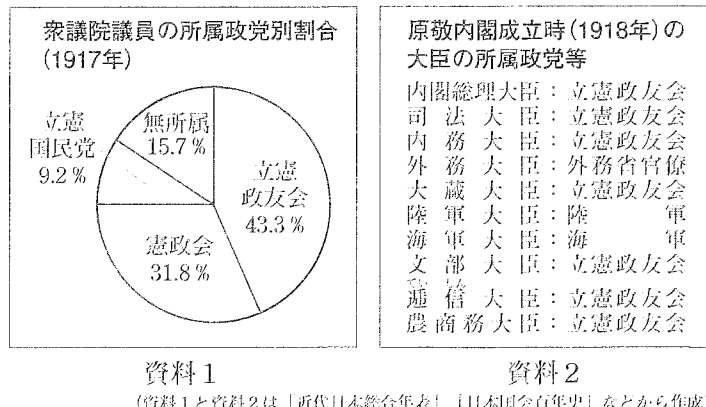
- ア 国会では、法律の制定や予算の審議・議決などが行われている。
- イ 衆議院と参議院の議決が異なるときには、両院協議会が開かれることがある。
- ウ 二院制を採用することで、慎重な審議を行うことができる。
- エ 国会に提出された議案は、本会議で審議された後、委員会では採決される。

② 直子さんは、下線部(b)に関連して、近現代の議会政治の展開と選挙権拡大の歴史について調べた。(1)～(4)に答えなさい。

(1) 近代の政治の展開に関わる次のア～エのできごとを、時代の古いものから順に並ぶように記号で答えなさい。

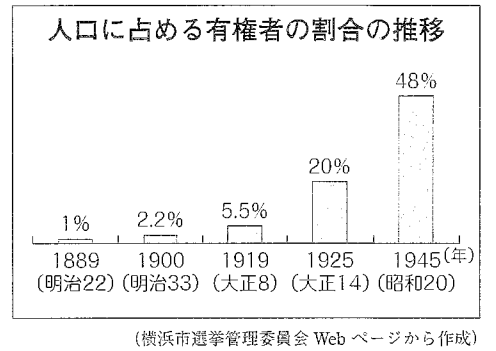
- ア 板垣退助が自由党を結成した。
- イ 最初の帝国議会が開かれた。
- ウ 伊藤博文が初代内閣総理大臣に就任した。
- エ 五箇条の御誓文が出された。

(2) 直子さんは、政党政治の発展に着目して、右の資料1と資料2を作成した。原敬内閣が本格的な政党内閣とされる理由を、資料1と資料2から読み取れることをもとに、解答用紙の書き出しに続けて書きなさい。



(3) 直子さんは、右の表を作成し、有権者の割合が特に増加した年に着目して、次のようにまとめた。(C)、(D)に当てはまることばをそれぞれ書きなさい。

1925年：護憲運動を経て、満25歳以上の(C)に選挙権が与えられた。
 1945年：第二次世界大戦後、満(D)に選挙権が与えられた。



(4) 第二次世界大戦後、初の衆議院議員総選挙が実施された年に日本国憲法が公布された。「基本的人権の尊重」、「平和主義」とともに、日本国憲法を構成する基本原理(原則)の一つを何といますか。

③ 大地さんは、下線部(c)に関連して、国民の政治参加の権利と方法について調べた。(1)、(2)に答えなさい。

(1) 基本的人権を保障するための権利の一つで、選挙権や選挙に立候補する被選挙権などを含む権利を何といますか。

(2) 大地さんが、政治参加の方法について次のように説明するとき、(E)に当てはまることばとして適当でないのは、ア～エのうちではどれですか。一つ答えなさい。

選挙で投票すること以外の政治参加としては、(E)などがあります。さまざまな政治参加の方法について、理解と認識を深めていくことが大切です。

- ア まちづくりや住民運動への参加
- イ 条例の制定や改廃を求める違憲審査権の行使
- ウ マスメディアを活用した世論づくりへの参加
- エ 国や地方公共団体に要望を伝える請願権の行使

④ 優太さんたちは、調べ学習のまとめとして意見交換をした。次はその会話の一部である。(1)、(2)に答えなさい。

優太：我が国の政治は、選挙で選ばれた代表者が話し合っていることが改めて理解できたね。
 大地：意見が対立した場合、賛成であっても、反対であっても、数の多い意見だけに注目するのではなく、(E)意見を尊重することが大切だといわれているね。
 直子：政治に関心をもたない人が増えると、多様な意見が出にくくなり、一部の人の意見だけに基いて政治が行われてしまう可能性があるわ。政治と選挙について、選挙権をもつ前からよく考えておく必要があるはずよ。
 優太：国や社会の一員として、選挙で投票することは、(F)ために大切なことだよ。
 大地：私たちが近い将来、責任ある一票を投じるためには、社会の課題について調べ、考え、自分なりに判断する力を身に付けておくことも必要だね。
 直子：何よりも、私たちの一票が、「未来を拓く」という自覚をもつことが大切ね。



(1) 大地さんは、最初の発言で審議の過程で大切にすべきことにふれている。(E)に当てはまることばを漢字二字で書きなさい。

(2) (F)に当てはまる内容を、「反映」ということばを用いて10字以上15字以内で書きなさい。

4 修学旅行で訪問した九州地方について興味をもった中学生の詩織さんは、九州地方の地域的な特色を調べた。①、②に答えなさい。

① 右の図1は、詩織さんが作成した略地図である。(1)～(3)に答えなさい。

- (1) 日本列島の周辺に沿うように分布し、特に東シナ海に広くみられ、水深約200mよりも浅く平らな海底を何といいますか。
 (2) 図1中の▲は、九州地方の代表的な火山である。詩織さんは火山について、次のようにまとめた。□に当てはまることばを書きなさい。

火山は噴火により災害をもたらす反面、美しい風景や温泉などの観光資源、火山の蒸気を利用する□発電など、さまざまな恵みを私たちにもたらしている。

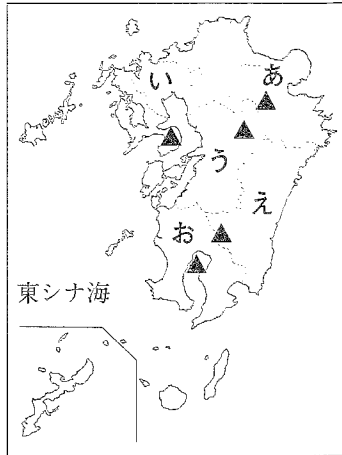


図1

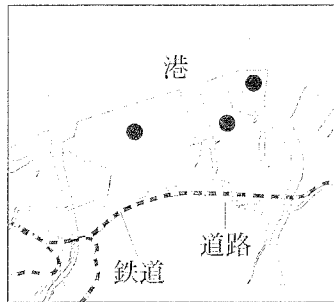
(3) 詩織さんは、九州地方の県別の耕地面積と畑の面積を調べて表を作成した。次は、その表の一部である。この表中で耕地面積に占める畑の面積の割合が最も高い県は、図1中のあ～おのうちのどれですか。一つ答えなさい。なお、あ～おは表中の5県のいずれかを示している。

	(単位: ha)				
	佐賀	熊本	大分	宮崎	鹿児島
耕地面積(2014年)	53 400	115 000	56 900	68 200	121 400
畑の面積(2014年)	10 100	44 700	16 400	31 200	82 500

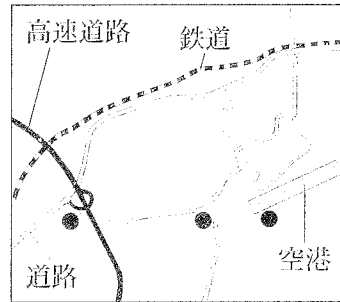
(「データでみる県勢2016年版」から作成)

② 詩織さんは、九州地方の産業の特色について調べた。(1)、(2)に答えなさい。

- (1) 詩織さんは、九州地方の中では福岡県が年間の商品販売額が最も大きいことに気づき、福岡県の小売業やサービス業の特色を調べることにした。詩織さんが調べる業種を含む産業を、第何次産業といえますか。
 (2) 詩織さんは、九州地方の工場の分布を調べるうちに、IC(集積回路)関連工場と、鉄鋼・石油化学工場には、それぞれの立地に傾向があることに気づき、AとBの略地図を作成した。詩織さんが、IC関連工場の立地の傾向を示すために、図2を作成して、次の□のようにまとめたとき、□(X)に当てはまる記号は、AとBのどちらですか。一つ答えなさい。また、□(Y)に当てはまる内容を、ICの輸送手段と選んだ略地図からわかることをあげながら書きなさい。



A



B




図2

(注) 略地図中の●は、おもな工場を示している。

IC関連工場は、略地図□(X)で示されるように、つくった製品を□(Y)に立地する傾向がある。このような傾向は、九州地方だけではなく、他の地方でも見られる。

5 中学生の大樹さんのクラスでは、近世までの我が国の歴史についてテーマを決めて調べ学習を行うことになった。大樹さんは「近世までの仏教の歴史」をテーマに決めて、まとめの表を作成した。次はその表の一部である。①～⑤に答えなさい。

時代区分	仏教の動き	仏教に関連するできごとなど
古代	(a) 仏教が伝わり、政治や文化に影響をおよぼした。	(b)
中世	(c) 仏教に新しい動きが起こり、武士や民衆の信仰をみつめた。	(d)
近世	民衆と寺の結び付きが強まった。	(e) 遠隔地の寺や神社にお参りする民衆が増加した。

① 大樹さんは、下線部(a)に関連して、古代の仏教の特色の一つについて次のように説明した。□に当てはまる内容を書きなさい。

聖武天皇は、国ごとに国分寺や国分尼寺を建てさせたり、巨大な大仏をつくらせたりしました。それは、仏教の力で□という考え方に基づいており、この時代の仏教の特色をよく示しています。

② □(b)に記入する内容として適当でないのは、ア～エのうちではどれですか。一つ答えなさい。


- ア 中国から最澄が天台宗を、空海が真言宗をもたらした。
 イ 阿彌陀仏(阿彌陀如来)にすがる信仰が流行し、平等院鳳凰堂がつけられた。
 ウ 一向宗の教えで結び付いた人々が各地で一揆をおこした。
 エ 法隆寺が建てられるなど、仏教の文化がさかえた。

③ 大樹さんは、下線部(c)に関連して、次のように説明した。□(X)、□(Y)に当てはまることばの組み合わせとして最も適当なのは、ア～エのうちではどれですか。一つ答えなさい。

戦乱などにより混乱したこの時代には、仏教に新しい動きが見られ、人々の心をとらえました。その中で□(X)は、幕府の保護を受けるようになりました。芸術でも新傾向が見られ、□(Y)らによってつくられた東大寺南大門の金剛力士像など力強い作品が生まれました。

- ア □(X) : 座禪を組んでさとりを開くとする禪宗, □(Y) : 運慶
 イ □(X) : 座禪を組んでさとりを開くとする禪宗, □(Y) : 世阿弥
 ウ □(X) : ひたすら念仏を唱えることを説く浄土宗, □(Y) : 運慶
 エ □(X) : ひたすら念仏を唱えることを説く浄土宗, □(Y) : 世阿弥

④ 大樹さんは□(d)に、中世の寺院建築の特色を書き込んだ。右は、その際に収集した写真であり、銀閣と同じ敷地にある東求堂の内部を写したものである。このような住宅の様式を何造といえますか。




⑤ 大樹さんは、下線部(e)について調べるうちに、民衆の旅に関心をもった。民衆の旅がさかんになった江戸時代についての説明として適当でないのは、ア～エのうちではどれですか。一つ答えなさい。

- ア 幕府が武家諸法度を定めて、大名を統制した。
 イ 街道や宿場(宿駅)の整備が進み、馬借の活動がはじまった。
 ウ 農村に紅花などの商品作物の栽培が広がるなどして、豊かになる農民もいた。
 エ 十返舎一九の小説や、歌川(安藤)広重の風景画が出版された。

受 検 番 号	(算用数字)	志 願 校	
------------	--------	-------	--

解 答 用 紙



1		①(1)	
		①(2)	
		②	造山帯
		③	
		④(1)	
		④(2)	

2		①	行事
		②	
		③	(A) (B) (C) (D)
		④	
		⑤	

3		①(1) (A)	
		①(1) (B)	
		①(2)	
		②(1)	→ → →
		②(2)	内閣の大臣の多くが
		②(3) (C)	
		②(3) (D)	
		②(4)	
		③(1)	権
		④(2)	

4		①(1)	
		①(2)	
		①(3)	
		②(1)	第 次産業
		②(2) (X)	
		②(2) (Y)	

5		①	
		②	
		③	
		④	造
		⑤	