

1

わたるさんは、「我が国の商工業の様子」に着目して、近世までの歴史的分野の学習を振り返り、次の表を作成しました。(1)～(5)に答えなさい。

表

時代	奈良	平安	鎌倉	室町		安土 桃山	江戸
				南北朝	戦国		
おもな商工業の様子	(a) 平城京に市が設けられた。			(b) 戦国大名が商工業者たちを城下町に集めた。 商工業者たちによる同業者組織が増加した。… 【A】			(c) 工場制手工業が広まった。
	京都などで X や酒屋が金融業を行った。			諸藩が大阪に Y をおいた。			老中の田沼意次が同業者組織を積極的に認めた。… 【B】

(1) わたるさんは、傍線部 (a) について調べました。①、②に答えなさい。

① 次は、平城京の遺跡から発見された木簡（荷札）について、わたるさんがまとめたものです。□に当てはまる最も適切なことばを漢字一字で書きなさい。

この木簡は、三斗の塩が都へ運ばれた際に使われたものです。三斗は塩の量を示しており、木簡が記されたころの成人男性一人分の税負担量だとわかりました。木簡に記された塩は、庸と同様に税の一つである □ として都へ運ばれたと考えました。

② 平城京に都が移された奈良時代の文化について述べた文として最も適当なのは、ア～エのうちではどれですか。一つ答えなさい。

- ア 兼好法師により随筆の文学作品である『徒然草』が書かれた。
- イ 貴族や防人などの和歌を収めた『万葉集』が成立した。
- ウ かな文字の文学作品である『枕草子』が生まれた。
- エ 『一寸法師』などのお伽草子と呼ばれる絵入りの物語が作られた。

(2) 傍線部 (b) が、それぞれの領国支配のために定めた法の総称を何といいますか。

(3) 表中の 、 に当てはまることばの組み合わせとして最も適当なのは、ア～エのうちではどれですか。一つ答えなさい。

- ア : 土倉 : 藩校 イ : 組頭 : 藩校
 ウ : 土倉 : 蔵屋敷 エ : 組頭 : 蔵屋敷

(4) 次は、傍線部(c)の様子がわかる資料と、わたるさんがそれを見て気づいたことを書いたメモです。 に当てはまる適当な内容を書きなさい。

資料

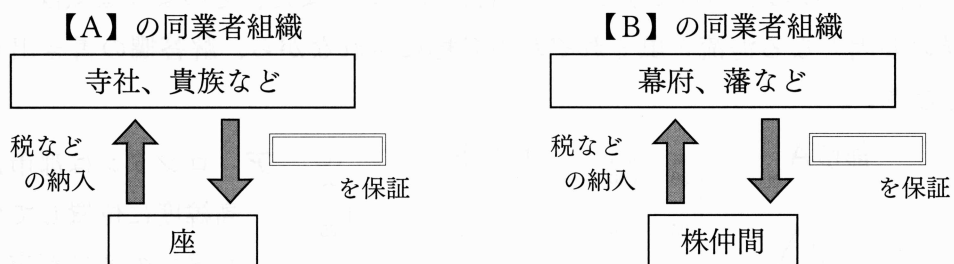


- ・資料は、現在の兵庫県伊丹市で行われていた酒づくりの様子。
- ・手工業による生産過程の形態に着目すると、作業場内の人々が という工場制手工業のしくみがわかる。

(5) わたるさんは、表を作成した後、次のようにまとめました。 に共通して当てはまる適当な内容を書きなさい。

〈気づいたこと・整理できたこと〉

表中の【A】と【B】にある「同業者組織」という同じことばについて、詳しく調べると、次の図のようなしくみだとわかりました。



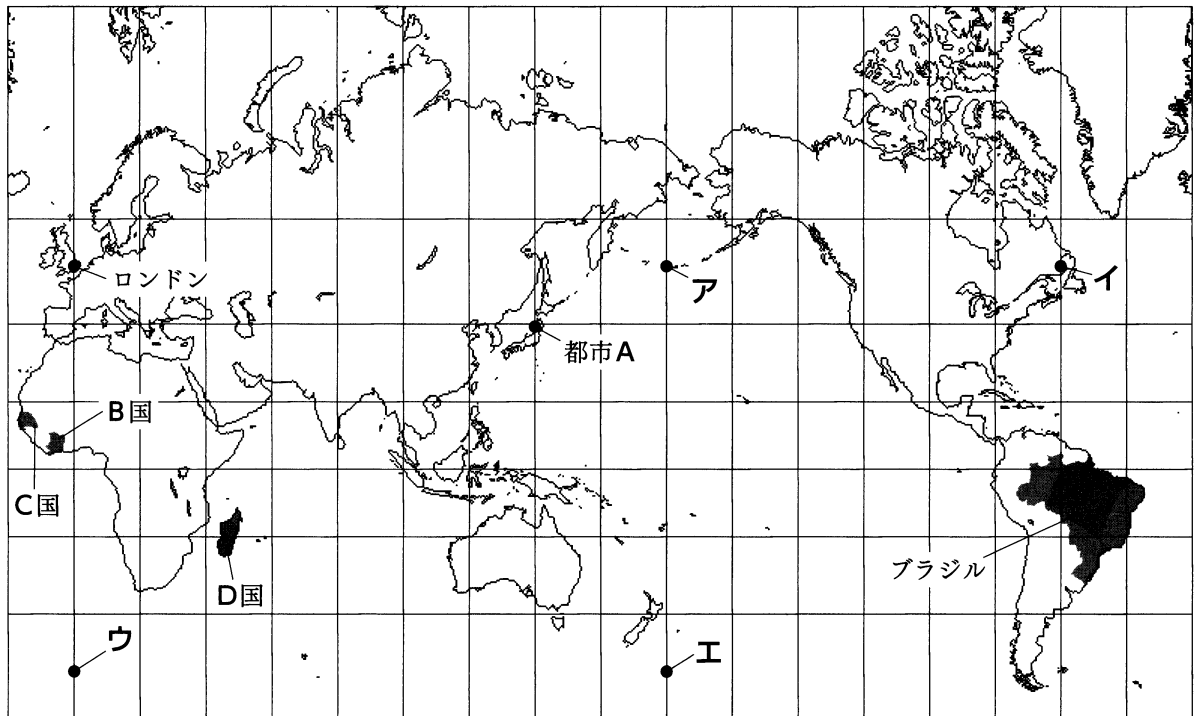
座は寺社や貴族などに対し、株仲間は幕府や藩などに対し、それぞれ税などを納入する代わりに、 が保証される特権を得ている点で共通しています。

〈さらに調べてみたいこと〉

座と株仲間をもっと詳しく調べ、どのような違いがあるかを比べてみたいです。

2

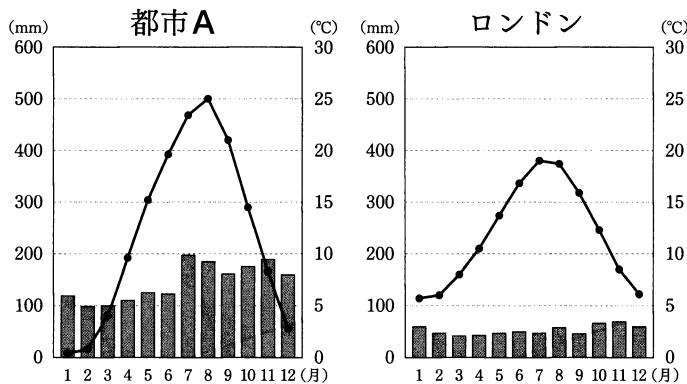
次の図は、緯線と経線が直角に交わる地図であり、緯線は赤道から、経線は本初子午線からいずれも20度間隔です。(1)～(3)に答えなさい。



図

(1) 図の都市Aとロンドンについて、①～③に答えなさい。

- ① 都市Aのある日本列島が属する造山帯は何といいますか。
- ② ロンドンからみて地球の中心を通った反対側の地点として最も適当なのは、図のA～Iのうちではどれですか。一つ答えなさい。
- ③ 次の雨温図は都市Aとロンドンのものです。ロンドンの気候について正しく述べているのは、AとIのどちらですか。一つ答えなさい。また、そのような気候となる理由を、気候の要因となる海流と風それぞれの名称にふれながら、解答欄の書き出しに続けて書きなさい。



(注) 統計は1991年から2020年の月別平均値。
 (「2023データブックオブ・ザ・ワールド」から作成)

ア ロンドンは都市Aに比べて高緯度に位置しているが、ロンドンの冬は都市Aの冬よりも温暖である。

イ ロンドンは都市Aに比べて月ごとの降水量の差は小さいが、ロンドンは都市Aよりも夏と冬の気温の差が大きい。

(2) 次の資料1～3は、図のB～D国それぞれに関するものです。資料1～3からわかることについて述べた次の文章の に当てはまる最も適切なことばを書きなさい。

資料1



資料2

C国では、公用語としてフランス語が使用されている。その他の言語として、ウォロフ語、フラニ語、セレール語などが使用されている。

資料3 D国の輸出額上位3か国

1位	2位	3位
フランス	アメリカ合衆国	ドイツ

(注) 統計年次は2020年。

(「2023 データブックオブ・ザ・ワールド」から作成)

資料1～3を見ると、アフリカ州に属しているB～D国には共通点がみられる。これは、かつて3か国が としてフランスの支配下にあったことが影響している。

(3) 次の表はブラジルの輸出額上位5品目と輸出総額に占める割合を示し、表のI～IIIは1970年、1985年、2019年のいずれかです。表に関して説明した次のXとYの文について、内容の正誤を表したものとして最も適当なのは、ア～エのうちではどれですか。一つ答えなさい。

表

	1位	2位	3位	4位	5位
I	大豆 11.6%	原油 10.7%	鉄鉱石 10.1%	肉類 7.2%	機械類 7.2%
II	コーヒー豆 34.6%	鉄鉱石 7.7%	綿花 5.7%	粗糖 4.7%	とうもろこし 3.0%
III	コーヒー豆 9.2%	鉄鉱石 6.5%	石油製品 6.3%	大豆かす 4.7%	果実 3.1%

(注) 粗糖とは精製していない砂糖。

(経済産業省「通商白書2014年版」、「世界国勢図会2021/22」から作成)

X ブラジルは、1970年ごろまでモノカルチャー経済の国だったため、IIIはIIより古い年のものである。

Y ブラジルでは、農業に関する幅広い経済活動を行う企業が進出した結果、植物油などの原料となる作物が増産されているため、Iは2019年のものである。

ア X、Yのどちらも正しい。

イ Xのみ正しい。

ウ Yのみ正しい。

エ X、Yのどちらも誤っている。

3

ゆうきさんは、歴史的分野の学習のまとめとして、民衆の政治への関わりや働きかけについて調べ、発表するためのスライドとその発表原稿を作成しました。(1)～(6)に答えなさい。

スライド1

一、今日、山城国南部の人々が集会をした。参加者の年齢は、六十から十五・六歳という。(中略)今起きた守護大名の畠山両氏の軍に対する態度を決めるためだという。

一、今後は、畠山両氏の軍は国の中に入ってはならない。

一、今日、山城国南部の人々は集会をした。山城国の法を制定するのだという。

(「大乗院寺社雑事記」から抜粋して作成)

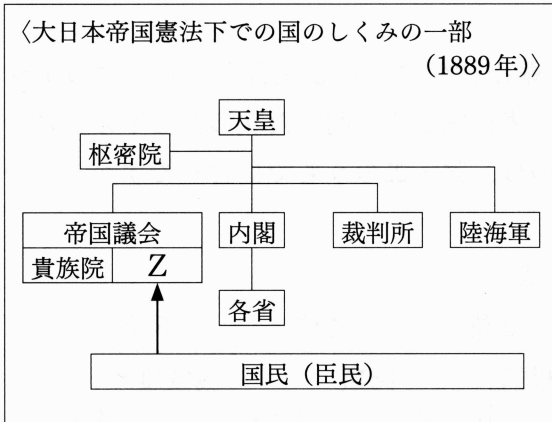
これは、中世の山城国(現在の京都府)南部の人々が、守護大名を追い出し、を行ったことがわかる資料です。集会には、私と同年代の15歳の人も参加していました。

スライド2



この資料は、フランス革命前の様子を表した風刺画です。この革命が起きていた1789年に発表された人権宣言では、平民のなどの権利が示されました。

スライド3



大日本帝国憲法下では、当初、議員の選挙権は限られた男性のみとされました。男性普通選挙権の獲得は1925年で、(a)女性の選挙権は第二次世界大戦後まで与えられませんでした。

スライド4



国会議事堂前に見えるのは、1960年の日米安全保障条約の改定に対して反対の意を示した人々です。多くの人が議事堂前に集まり、安保闘争が起きました。


(1) 、 に当てはまることばの組み合わせとして最も適当なのは、ア～エのうちではどれですか。一つ答えなさい。

- ア : 自治 : 自由や平等
- イ : 打ちこわし : 自由や平等
- ウ : 自治 : 勤労や団結
- エ : 打ちこわし : 勤労や団結

(2) に共通して当てはまる最も適当なことばを書きなさい。

- (3) ゆうきさんは、スライド2と同様に風刺画として描かれた資料1を収集し、これに関する資料2を作成し、二つの資料から読み取ったことをまとめました。ゆうきさんがまとめた次の文章の□に当てはまる適当な内容を、下線部が具体的に指すものを明らかにしながら、資料2から読み取れる情報をもとに書きなさい。

資料1



資料2 ^{にっしん}日清・日露戦争における臨時軍事費とおもな講和内容

	臨時軍事費	おもな講和内容
日清戦争	210 973 千円	朝鮮の独立、 ^{りょうとうはんとう} 遼東半島・台湾等の割譲、賠償金2億両
日露戦争	1 746 421 千円	韓国における日本の優越権、旅順・大連の租借権、長春以南の鉄道の利権

(「明治財政史」、「明治大正財政史」から作成)

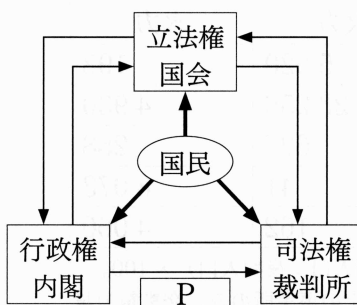
資料1の中心に描かれているのは日露戦争後の民衆の様子です。日清戦争後から、資料1の民衆が背負う荷物は負担として重たくなっていきました。日露戦争後に日比谷焼き打ち事件が起こったのは、民衆が□ということを知ったことが背景にあるとわかりました。

- (4) 下線部(a)に関して、明治時代に青鞥社を結成して、女性の解放に向けて活動した人物として最も適当なのは、ア～エのうちではどれですか。一つ答えなさい。
- ア 津田梅子 イ ^{よさのあきこ}与謝野晶子 ウ ^{ひぐちいちよう}樋口一葉 エ ^(ちよう)平塚らいてう

- (5) スライド4の安保闘争前後の我が国のできごとについて述べたア～ウを、年代の古いものから順に並ぶように記号で答えなさい。
- ア 日韓基本条約の締結 イ 警察予備隊の設置 ウ ソ連との国交回復

- (6) ゆうきさんは、現在の国民の政治参加について調べ、資料3を用いて次のようにまとめました。資料3は、日本における三権分立の関係の一部を示しています。□Pに共通して当てはまることばとして最も適当なのは、ア～ウのうちではどれですか。一つ答えなさい。また、□Qに当てはまる適当な内容を書きなさい。

資料3



歴史の中で、民衆が政治に関わり、働きかけてきたことが改めてわかりました。資料3のように、内閣が裁判所に対して□Pを行うなどして、国会、内閣、裁判所が、たがいに抑制し合うことで、□Qを防いでいます。そして、その中心には主権者である国民が位置しています。政治や経済などの知識や考え方を身に付け、主権者としての役目を果たしていきたいです。

- ア 憲法改正の発議 イ 最高裁判所長官の指名 ウ 裁判員の選任

4

かなこさんは、授業で関東地方について学習した後、資料1を見つけ、なぜ群馬県大泉町では外国人人口割合が高いのかと疑問を感じました。そこで、図1と図2を用いて、資料1の五つの都道県について調べました。(1)～(4)に答えなさい。なお、図1と図2の縮尺は異なります。

資料1

全国の外国人人口割合(%) の市町村ランキング		
1位	大泉町(群馬県)	18.8
2位	占冠村(北海道)	12.1
3位	新宿区(東京都)	9.9
3位	蕨市(埼玉県)	9.9
5位	美濃加茂市(岐阜県)	9.3

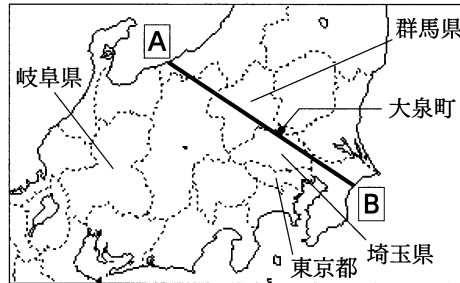


図1

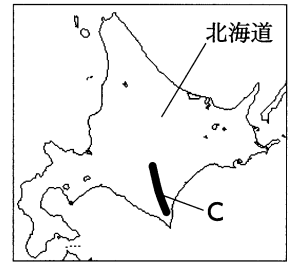
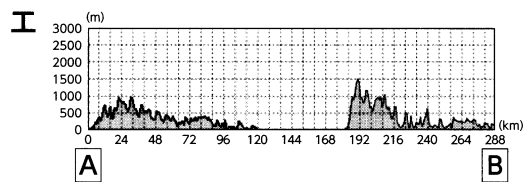
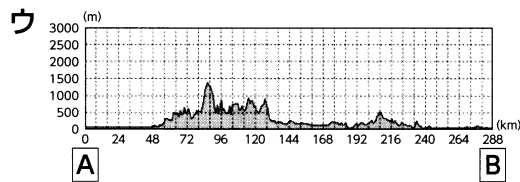
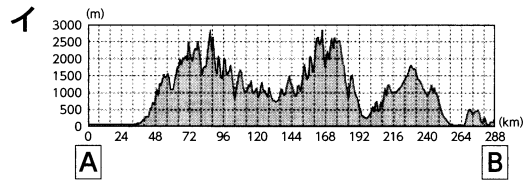
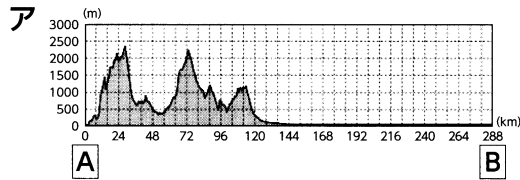


図2

(注) 統計年次は2022年。東京都の特別区は各区ごとで集計。
〔「データでみる県勢2023」から作成〕

(1) 図1のA-B間の断面を模式的に示したものとして最も適当なのは、ア～エのうちではどれですか。一つ答えなさい。



(2) かなこさんは、資料1の五つの都道県をさまざまな視点から比較するために資料2を収集しました。資料2のア～オは、北海道、群馬県、埼玉県、東京都、岐阜県のいずれかです。群馬県が当てはまるのは、ア～オのうちではどれですか。一つ答えなさい。

資料2

	昼夜間人口比率 (%)	農業産出額 (億円)	製造品出荷額等 (億円)	*発電方式別発電電力量 (百万kWh)	
				火力	水力
ア	119.2	229	70 805	5 620	198
イ	100.0	12 667	55 872	23 256	4 930
ウ	87.6	1 678	128 630	627	258
エ	96.3	1 093	56 149	41	8 073
オ	100.0	2 463	78 889	162	4 060

(注) 統計年次は2020年(※のみ2020年度)。昼夜間人口比率 = (昼間人口 ÷ 夜間人口) × 100。
農業産出額は加工農産物を含む。製造品出荷額等は従業者4人以上の事業所のみ。発電電力量は電気事業者のみ。

〔「データでみる県勢2022」、「データでみる県勢2023」から作成〕

- (3) かなこさんは、関東地方の学習内容を振り返り、群馬県の工業と農業について、次のようにまとめました。□に共通して当てはまる適当な内容を書きなさい。

群馬県の工業について

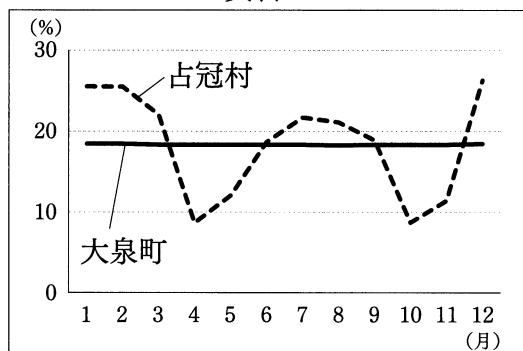
東京都・神奈川県・埼玉県は京浜工業地帯、千葉県の臨海部は京葉工業地域とよばれています。1970年代以降は、各地で□が進んだことにより、貿易港などへの製品輸送が容易となりました。これにより、群馬県などの内陸部へ工場が進出していき、多くの工場が集まる北関東工業地域が形成されました。

群馬県の農業について

群馬県の高原が広がる地域では、その気候を生かした農業が盛んです。都市から離れたこうした地域へもつながる□が進むとともに、輸送機関が発達しました。その結果、都市の住民向けの農産物を消費地から離れた地域で生産し、新鮮なまま運ぶことが可能になりました。

- (4) かなこさんは、群馬県大泉町が北関東工業地域に属していることを知り、収集した資料3をもとに、群馬県大泉町と北海道占冠村の外国人人口割合が高い要因について考察したことをまとめました。資料3は群馬県大泉町と北海道占冠村の月別外国人人口割合を示したグラフです。①、②に答えなさい。

資料3

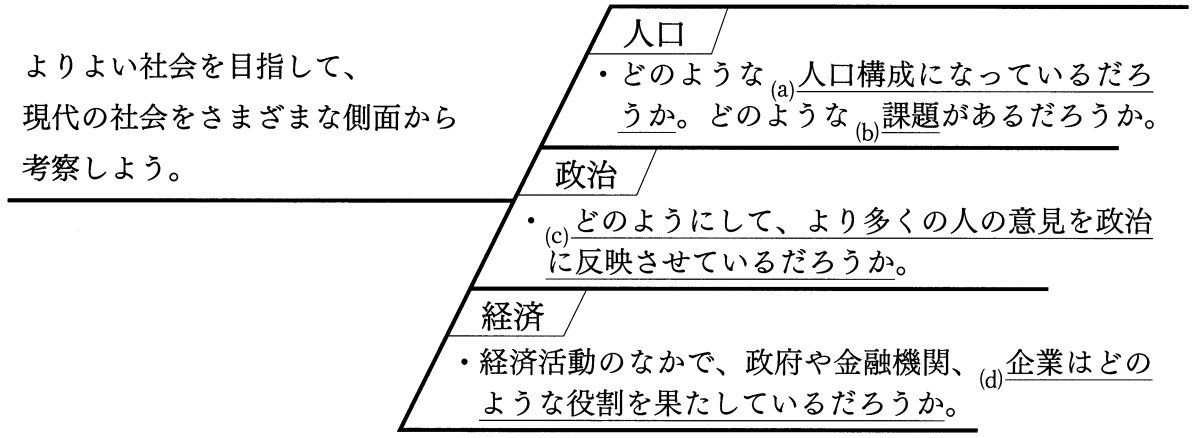


(注) 統計年次は2018年。月別外国人人口割合は各町村における月ごとの総人口に占める外国人人口の割合。外国人人口割合には、短期滞在の外国人観光客などは含まれず、就労などで住民として町や村に登録された外国人を含む。
(北海道総合政策部計画局統計課Webページ、群馬県統計情報提供システムWebページから作成)

資料3から、大泉町の外国人人口割合が高い要因は、北関東工業地域の形成を背景とした労働力不足を補う外国人の増加にあると考えました。一方、図2のCの山脈の西側に位置する占冠村は、グラフの推移を見ると、月ごとに変化があります。占冠村の外国人人口割合が高い要因は、大泉町のように工業地域での労働ではなく、北海道の□という気候の特色を生かした産業に従事する外国人の増加が関係していると考えました。今回調べた大泉町のような地域では、多文化共生に向けて、どのようなまちづくりを進めているのか、さらに調べてみたいです。

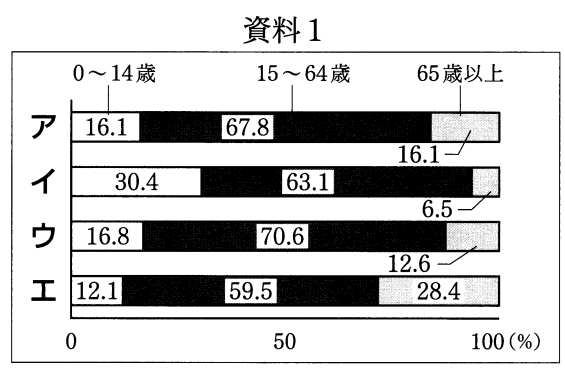
- ① 下線部の山脈名として最も適当なのは、ア～エのうちではどれですか。一つ答えなさい。
ア 飛驒山脈 イ 日高山脈 ウ 赤石山脈 エ 奥羽山脈
- ② □に当てはまる適当な内容を、資料3の占冠村の月別外国人人口割合が大泉町の月別外国人人口割合より高い時期にふれながら書きなさい。

5 あすかさん、けんじさん、さやかさんのグループは、「よりよい社会を目指して」というテーマで探究する学習を行っています。次の図は、学習のはじめに、現代の社会について、人口、政治、経済の側面からどのようなことを考察するかをグループでまとめたものです。(1)～(6)に答えなさい。



図

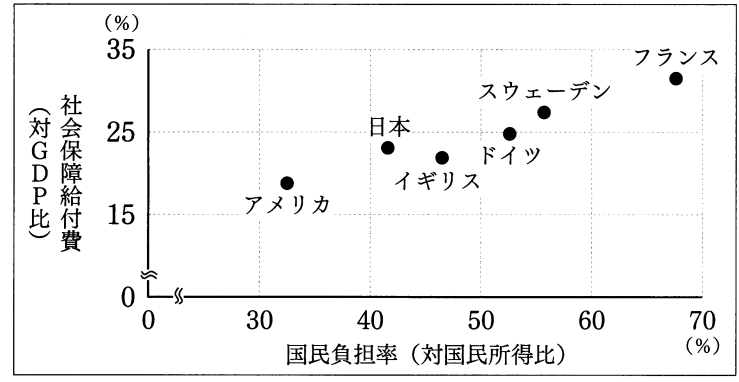
(1) 人口の側面を担当するあすかさんは、下線部(a)がわかる資料1を収集しました。資料1は、日本を含む4か国における、年齢を3区分に分けた人口構成割合を示しています。日本が当てはまるのは、ア～エのうちではどれですか。一つ答えなさい。



(注) 統計年次は2019年。
 (「世界国勢図会2020/21」、「世界国勢図会2021/22」から作成)

(2) あすかさんは、下線部(b)について考えるために、日本の社会保障に着目し、収集した資料2について、次のようにまとめました。①、②に答えなさい。

資料2 日本を含む6か国の国民負担率と社会保障給付費



(注) 社会保障給付費の統計年次は2013年。国民負担率の統計は、日本は2013年度、その他は2013年。国民負担率は、国民の税負担率と社会保障負担率を合わせたもの。社会保障給付費は、社会保障制度によって国や地方公共団体などから国民に給付される費用。
 (独立行政法人 労働政策研究・研修機構「データブック国際労働比較」から作成)

資料2では、フランスの社会保障は、国民の なっていて、アメリカの社会保障は、国民の なっています。現在の日本の人口構成割合では、国民負担率と社会保障給付費のバランスが課題となります。日本が、資料2の状態から国民負担率を変えず、社会保障給付費のみを増加させると、将来の世代へ負担の先送りとなる の発行が増えていくことも考えられます。

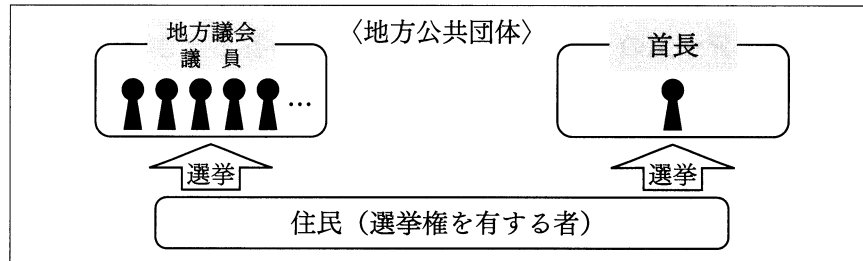
① 、 に当てはまることばの組み合わせとして最も適当なのは、ア～エのうちではどれですか。一つ答えなさい。

- ア ：負担は大きく、給付も多く ：負担は大きく、給付も多く
 イ ：負担は小さく、給付も少なく ：負担は大きく、給付も多く
 ウ ：負担は大きく、給付も多く ：負担は小さく、給付も少なく
 エ ：負担は小さく、給付も少なく ：負担は小さく、給付も少なく

② に当てはまる最も適当なことばを書きなさい。

(3) 政治の側面を担当するけんじさんは、下線部(c)に関して、日本の地方自治のしくみを表した資料3を収集し、議院内閣制のしくみと比較して次のようにまとめました。 に当てはまる最も適当なことばを書きなさい。また、 に当てはまる適当な内容を、「指名」ということばを用いて書きなさい。

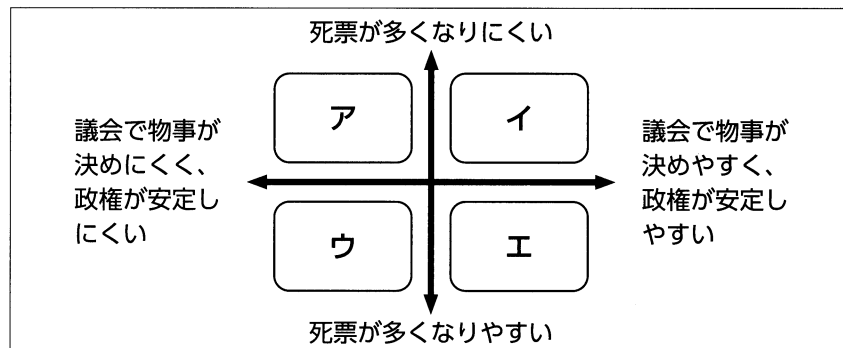
資料3



地方公共団体には、地方議会と地方公共団体の長である首長が置かれています。国の政治において、内閣総理大臣は、 の中から、国民による選挙ではなく ことが定められていますが、地方の政治では、資料3のように、地方議会の議員と首長を選挙によって選ぶことができるため、住民の意見がより反映されるしくみになっています。

(4) けんじさんは、選挙制度にも着目し、日本の選挙制度を特徴ごとに分類するために資料4を作成しました。日本の小選挙区制と比例代表制はア～エのいずれかに当てはまります。日本の小選挙区制と比例代表制が当てはまるものとして最も適当なのは、ア～エのうちではどれですか。それぞれ一つ答えなさい。

資料4



- (5) 経済の側面を担当するさやかさんは、下線部(d)について学習内容を振り返り、次のようにまとめました。①、②に答えなさい。

- 日本の企業には、公企業と私企業があり、公企業は国や地方公共団体が運営し、公共の目的のために活動しています。私企業は利益を求めだけでなく、^(e)企業の社会的責任を果たすことも求められています。
- 現在の日本の企業は株式会社が多く、株主は、おもに企業の利潤を見通して株式を購入しますが、社会的責任を十分に果たすことができていない企業には投資しない傾向もあります。
- 株主は、株主総会に出席して、企業の基本方針などに対して意見を述べることができます。また、株主には、株式を保有している企業が倒産しても、は負わなことが認められています。

- ① 下線部(e)に関して述べた次のXとYの文について、内容の正誤を表したものとして最も適当なのは、ア～エのうちではどれですか。一つ答えなさい。

X 企業の経営状況などの情報を公開する。

Y 環境に配慮した生産や環境保護に貢献する。

ア X、Yのどちらも正しい。 イ Xのみ正しい。

ウ Yのみ正しい。 エ X、Yのどちらも誤っている。

- ② に当てはまる適当な内容を、「金額」ということばを用いて書きなさい。

- (6) 次は、現代の社会を考察する活動後に、けんじさんが書いた振り返りの一部です。

に当てはまる最も適当なことばを書きなさい。

今回、人口や政治、経済の側面から現代の社会を考察しました。探究する課題を決める次の活動では、あすかさんが調べてくれた人口の側面に焦点を当て、「日本の人口構成をふまえ、『よりよい社会』に何が必要か」を設定するのはどうかと提案してみようと思います。例えば、高齢者や障害のある人などにとって重要な化が地域内の道路、公共交通機関の乗降口、エレベーターのボタンの位置などでどのくらい進められているかを調査することも提案したいです。